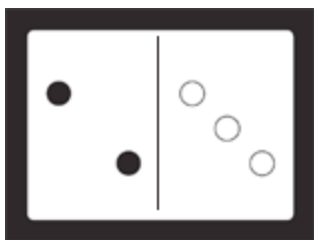


认识加法和数字算式

把部分加起来找到总和。




有几个黑色的圆点? _____

有几个白色的圆点? _____

2 和 3 是 5。5 是 2 和 3 加起来的总和。

做加法，找总和。可以数东西。

1.

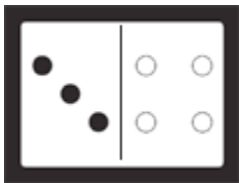


有几个黑色的圆点? _____

有几个白色的圆点? _____

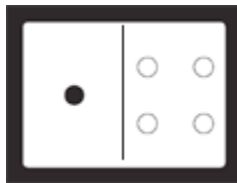
4 和 2 是 6。6 是 4 和 2 加起来的总和。

2.



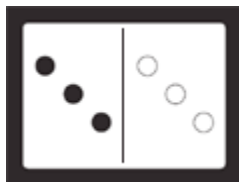
_____ 和 _____ 是 _____。

3.



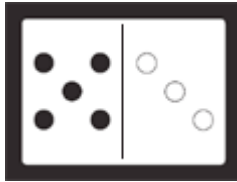
_____ 和 _____ 是 _____。

4.



_____ 和 _____ 是 _____。

5.



_____ 和 _____ 是 _____。